

PROVE DI VERIFICA
FINE PRIMO QUADRIMESTRE
CLASSI SECONDE
A.S. 2022/2023

VALUTAZIONE

ITALIANO

PROVA 1: "Lettura di parole" (leggere 40 parole).

VALUTAZIONE	ERRORI	LIVELLO
40 – 35/40	0 – 5	Avanzato
34 – 30/40	6 – 10	Intermedio
29 – 25/40	11 – 15	Base
24 – 20/40	da 16	In via di acquisizione

PROVA 2: "La giraffa vanitosa" (leggere e comprendere testi di vario genere, individuandone il senso globale e le informazioni principali).

VALUTAZIONE	ERRORI	LIVELLO
10 – 9/10	0 – 1	Avanzato
8 – 7/10	2 – 3	Intermedio
6 – 5/10	4 – 5	Base
4/10	da 6	In via di acquisizione

PROVA 3: “Adesso faccio...da solo” (osservare le immagini e scrivere parole).

VALUTAZIONE	ERRORI	LIVELLO
20 – 17/20	0 – 3	Avanzato
16 – 14/20	4 – 6	Intermedio
13 – 10/20	7 – 10	Base
9/20	da 11	In via di acquisizione

PROVA 4: “Prova di grammatica” (cogliere regolarità morfosintattiche e caratteristiche del lessico).

VALUTAZIONE	ERRORI	LIVELLO
10 – 9/10	0 – 1	Avanzato
8 – 7/10	2 – 3	Intermedio
6 – 5/10	4 – 5	Base
4/10	da 6	In via di acquisizione

MATEMATICA

PROVA 1: "Addizioni e sottrazioni in colonna" (eseguire calcoli scritti con i numeri naturali)

VALUTAZIONE	ERRORI	LIVELLO
10 – 9/10	0 – 1	Avanzato
8 – 7/10	2 – 3	Intermedio
6 – 5/10	4 – 5	Base
4/10	da 6	In via di acquisizione

PROVA 2: "Risolvere problemi e descrivere il procedimento" (comprendere e risolvere situazioni problematiche che coinvolgono aspetti logici e matematici).












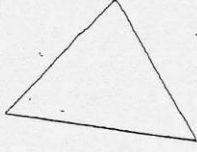




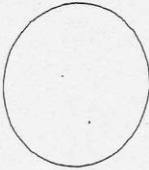
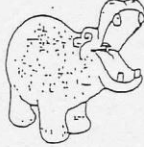
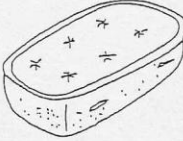









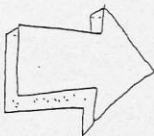







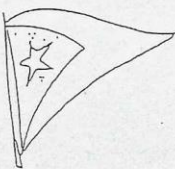



VALUTAZIONE	ERRORI	LIVELLO
8/8	0	Avanzato
7 – 6/8	1 – 2	Intermedio
5 – 4/8	3 – 4	Base
3/8	da 5	In via di acquisizione












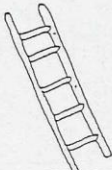
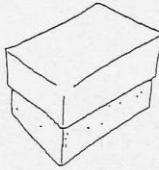

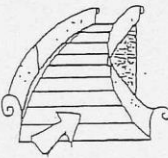
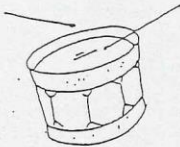








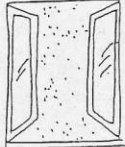
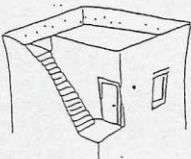




PROVA 3: "Confrontare e ordinare i numeri entro il 100" (eseguire calcoli mentali con i numeri naturali).




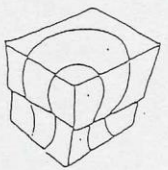



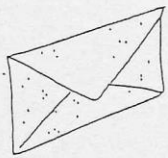
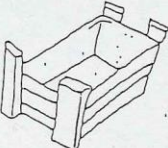

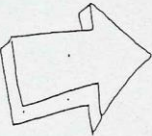














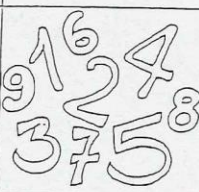




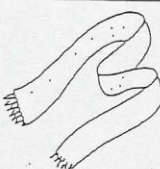



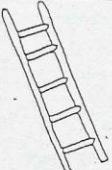

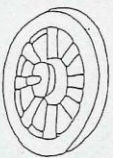



VALUTAZIONE	ERRORI	LIVELLO
51 – 45/51	0 – 6	Avanzato
44 – 39/51	7 – 12	Intermedio
38 – 33/51	13 – 18	Base
32 – 27/51	da 19	In via di acquisizione

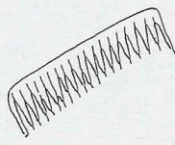







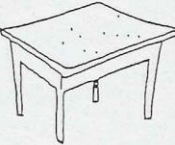



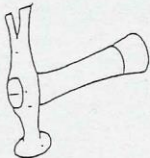





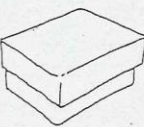






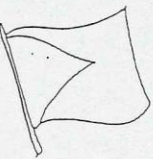

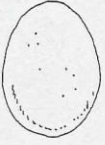

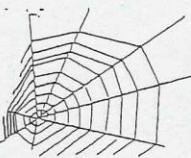






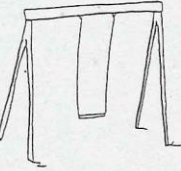



PROVA N° 1

Leggi le parole e segna con una x la figura corrispondente.

1	Frigorifero				
2	Gallina				
3	Lampadina				
4	Quadrifogli				
5	Materasso				
6	Medico				
7	Orchestra				
8	Batteria				
9	Elicottero				
10	Farfalla				

11	Grattacielo				
12	Spalla				
13	Fontana				
14	Imbianchino				
15	Gradini				
16	Tamburo				
17	Montagna				
18	Ippopotamo				
19	Terrazza				
20	Mensola				

21	Ventaglio				
22	Busta				
23	Freccia				
24	Rinoceronte				
25	Ragnatela				
26	Trifoglio				
27	Numeri				
28	Sirena				
29	Peperone				
30	Nuvole				

31	Cellulare				
32	Diavolo				
33	Angeli				
34	Befana				
35	Televisione				
36	Computer				
37	Radar				
38	Ombrello				
39	Unicorno				
40	Altalena				

LA GIRAFFA VANITOSA

In una grande foresta viveva una giraffa bellissima, agile e snella, più alta di qualunque altra.

Sapendo di essere ammirata era diventata superba.

Se ne andava in giro tutto il giorno per mostrare la sua bellezza agli uni e agli altri dicendo:

– Guardatemi, io sono la più bella!

Gli altri animali, stanchi di udire le sue vanterie, la prendevano in giro, ma la giraffa vanitosa era troppo occupata a rimirarsi per dar loro retta.

Un giorno una scimmia decise di darle una lezione.

Cominciò a farle un sacco di complimenti:

– Ma come sei bella! Ma come sei alta! La tua testa arriva dove nessun altro animale può giungere.

E così dicendo la condusse verso la palma più alta della foresta.

Quando furono giunti là, la scimmia chiese alla giraffa di prendere dei datteri che stavano in alto e che erano i più dolci.

Il suo collo era lunghissimo, ma per quanto si sforzasse di allungarlo ancora di più, non riusciva a raggiungere i frutti.

Allora la scimmia con un balzo saltò sul dorso della giraffa,

poi sul collo e finalmente si issò sulla sua testa riuscendo ad afferrare i frutti desiderati. Una volta tornata a terra, la scimmia disse alla giraffa:

– Vedi, mia cara, sei la più alta, la più bella, però non puoi vivere senza gli altri, non puoi fare a meno degli altri animali.

La giraffa imparò la lezione e da quel giorno iniziò a collaborare con gli altri animali e a rispettarli tutti.

Le domande seguenti si riferiscono al racconto che hai appena letto. Cerca di rispondere a tutte le domande, rileggendo il racconto se necessario.

A1. Il racconto parla di:

- A. una scimmia dispettosa.
- B. una giraffa vanitosa.
- C. una giraffa sciocca.
- D. una scimmia simpatica.

A2. La storia si svolge:

- A. in una immensa prateria.
- B. in un bosco molto fitto di alberi.
- C. ai limiti di una grande foresta.
- D. nella foresta.

A3. Come era la giraffa?

- A. Maculata e alta.
- B. Tozza e con il collò corto.
- C. Brutta, ma con lunghe zampe.
- D. Bellissima, agile, snella e alta.

A4. Nel racconto si dice che la giraffa «era diventata superba...» (riga 4). Cosa significa?

- A. Che era presuntuosa e altezzosa.
- B. Che era umile e modesta.
- C. Che era maleducata.
- D. Che era simpatica e gentile.

A5. Cosa fecero un bel giorno gli animali della foresta?

- A. Stufi della giraffa, decisero di cacciarla dalla foresta.
- B. Chiamarono la scimmia per dare una lezione alla giraffa.
- C. Chiesero aiuto al lupo perché spaventasse la giraffa.
- D. Parlarono tutti insieme alla giraffa per farle capire che doveva cambiare atteggiamento.

A6. La scimmia chiese alla giraffa di allungare il suo collo e:

- A. staccare le foglie tenere e grandi dall'albero più alto.
- B. cogliere le banane gialle e mature della pianta.
- C. prendere i dolci datteri in cima alla palma.
- D. afferrare il suo piccolo cucciolo incapace di scendere dall'albero di noci.

A7. Il collo della giraffa non era abbastanza lungo, allora:

- A. la giraffa e la scimmia tornarono dai loro amici animali.
- B. la giraffa si accorse che il suo collo lungo era inutile.
- C. la scimmia e la giraffa, insieme, scossero il troc^o della palma fino a far cadere i datteri.
- D. la scimmia si arrampicò fin sopra la testa della giraffa riuscendo ad afferrare i frutti desiderati.

A8. Alla fine della storia la scimmia dà una lezione alla giraffa. Quale?

- A. È inutile avere il collo lungo se non si riesce a prendere i datteri dalla palme.
- B. Tutti, anche i migliori, hanno bisogno dell'aiuto degli altri.
- C. La bellezza e l'altezza non servono a niente.
- D. La superbia fa perdere gli amici.

A9. Chi è il più saggio in questa storia?



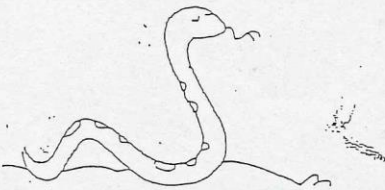



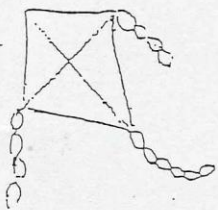

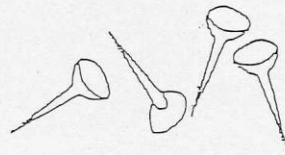


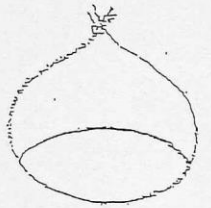






- A. La scimmia.
- B. La giraffa.
- C. Gli animali della foresta.
- D. Il grillo parlante.

A10. Quale altro titolo potresti dare a questa storia?

- A. I datteri irraggiungibili.
- B. La prateria ai limiti della foresta.
- C. La giraffa vanitosa e la scimmia saggia.
- D. La scimmia arrogante.

PROVA N° 3

Io osservo i disegni e scrivo le parole.



PROVA N° 4

PROVA DI GRAMMATICA

2 Indica con una ✖ le espressioni corrette.

- | | |
|---|--|
| <input type="checkbox"/> il celo azzurro | <input type="checkbox"/> il cielo azzurro |
| <input type="checkbox"/> un chiccho di grano | <input type="checkbox"/> un chicco di grano |
| <input type="checkbox"/> le margherite bianche | <input type="checkbox"/> le margerite bianche |
| <input type="checkbox"/> la sciarpa e lo scalle | <input type="checkbox"/> la sciarpa e lo scialle |
| <input type="checkbox"/> la mosca nella ragnatela | <input type="checkbox"/> la mosca nella ragniatela |
| <input type="checkbox"/> le conchiglie fra gli scogli | <input type="checkbox"/> le conchilie fra gli scogli |
| <input type="checkbox"/> l'oglio nell'ogliera | <input type="checkbox"/> l'olio nell'oliera |
| <input type="checkbox"/> il cuaderno a quadretti | <input type="checkbox"/> il quaderno a quadretti |
| <input type="checkbox"/> il tamburo e la tromba | <input type="checkbox"/> il tanburo e la tronba |
| <input type="checkbox"/> un capucio azzurro | <input type="checkbox"/> un cappuccio azzurro |

Addizioni e sottrazioni

$21 + 28 =$

$67 - 39 =$

$32 + 28 =$

$68 - 35 =$

$28 + 42 =$



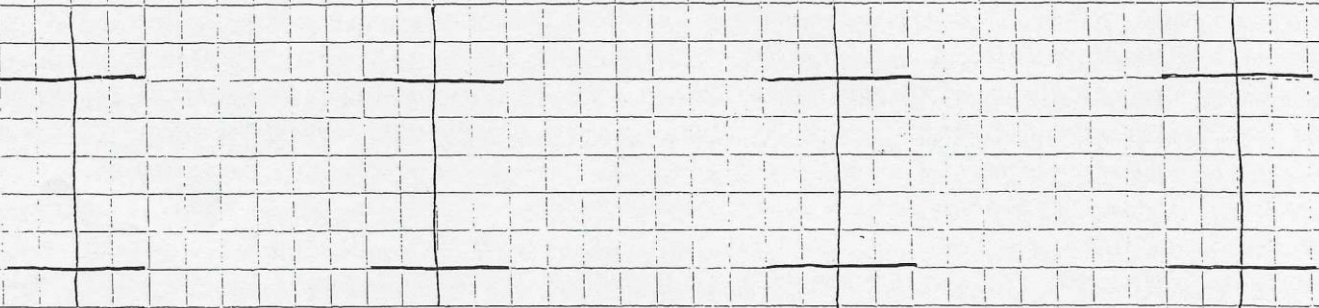
$52 - 44 =$

$25 + 24 =$

$63 - 42 =$

$19 + 39 =$

$70 - 34 =$




PROVA N° 2

TESTO

Elena acquista 15 mele, 8 banane e 7 kiwi per preparare una buona macedonia, Quanti frutti ha acquistato Elena?

DATI

Rappresentazione (DISEGNO)



Operazione
in riga

In colonna
da | ad

Risposta

Riscrivi i numeri in ordine dal minore al maggiore.

50	30	80	90	10
----	----	----	----	----

--	--	--	--	--

40	60	0	70	20
----	----	---	----	----

--	--	--	--	--

Riscrivi i numeri in ordine dal maggiore al minore.

40	0	20	30	70
----	---	----	----	----

--	--	--	--	--

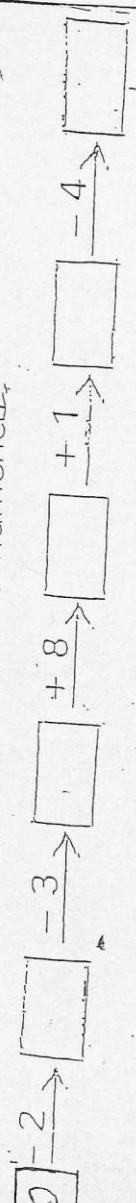
60	50	30	90	40
----	----	----	----	----

--	--	--	--	--

Completa con un numero adatto.

- 22 >
- 60 >
- 59 <
- 30 <
- 53 >
- 54 <
- 55 <
- 46 =

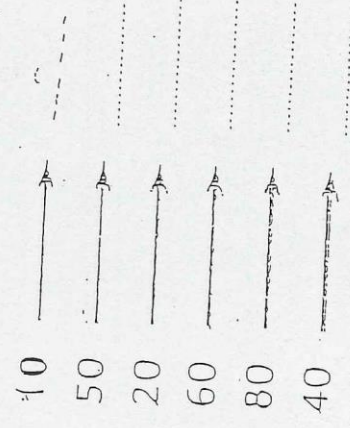
Completa la catena numerica.



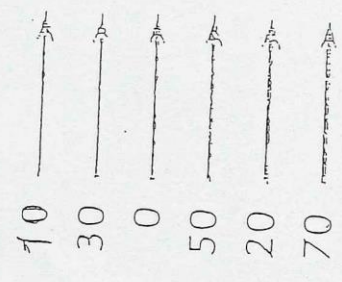
Completa la tabella.

Preceda	Segue
	28
	39
	60
	74
	56
	43

Aggiungi 1 da



Aggiungi 2 da



Scrivi i numeri formati da:

- 6 da e 1 u =
- 9 da e 7 u =
- 8 da e 0 u =
- 1 da e 6 u =
- 0 da e 3 u =
- 8 u e 2 da =
- 5 u e 7 da =
- 0 u e 9 da =
- 4 da e 5 u =
- 6 u e 6 da =