

Nome Classe Data

ELEMENTI NATURALI E ANTROPICI

- Scrivi se gli elementi del paesaggio sono naturali o antropici.

È un elemento...

1. fiume
2. strada
3. case
4. ponte
5. montagna
6. campi coltivati
7. bosco



Nome Classe Data

L'UOMO TRASFORMA IL PAESAGGIO

- Completa il testo con le frasi indicate sotto.

Gli uomini trasformano il paesaggio naturale:
coltivano i campi per avere grano, frutti e altri prodotti
della terra;

tagliano i boschi

.....;

costruiscono case

costruiscono fabbriche e laboratori

.....;

costruiscono scuole, ospedali, impianti sportivi, chiese e
altri edifici

.....;

costruiscono strade, ponti, ferrovie, aeroporti

.....

- per abitare
- per studiare, curarsi, divertirsi, pregare...
- per fabbricare oggetti, cibo e macchinari
- per viaggiare e trasportare i prodotti
- per avere legname e terreno da coltivare

Nome Classe Data

FLORA, FAUNA E ALTRO

- Ritaglia e ricostruisci le frasi sul quaderno.

La flora è...

La morfologia è...

La fauna è...

L'idrografia è...



... l'insieme di fiumi,
laghi e mari
di un territorio.



... l'insieme
degli animali
di un territorio.



... l'insieme
di fiori e piante
di un territorio.



... la forma
(monti, pianure ecc.)
di un territorio.

Nome Classe Data

ELEMENTI DI UN PAESAGGIO

- Osserva l'immagine e scrivi nella tabella tutti gli elementi del territorio che riconosci.

| | Elementi naturali | Elementi antropici |
|-----------------------|-------------------|--------------------|
| Morfologia | montagna | |
| Idrografia | | |
| Flora | | |
| Fauna | | |
| Costruzioni dell'uomo | | |



Nome Classe Data

UN CONFRONTO

- Completa con i tuoi dati.

*Dove abito adesso,
in Italia*

Il terreno è:

- pianeggiante.
 montuoso.
 collinare.

La montagna più vicina è:

.....

Il mare più vicino è:

.....

Il fiume più vicino è:

.....

Il lago più vicino è:

.....

La campagna più vicina
alla mia casa è:

- coltivata.
 incolta.

Le case sono:

- molte e vicine tra loro.
 poche e lontane
tra loro.

*Dove abitavo prima,
in*

Il terreno è:

- pianeggiante.
 montuoso.
 collinare.

La montagna più vicina è:

.....

Il mare più vicino è:

.....

Il fiume più vicino è:

.....

Il lago più vicino è:

.....

La campagna più vicina
alla mia casa è:

- coltivata.
 incolta.

Le case sono:

- molte e vicine tra loro.
 poche e lontane
tra loro.

Nome Classe Data

COME SI SONO FORMATE LE PIANURE

- Leggi il testo e completa le frasi.

Moltissimi anni fa le pianure italiane non c'erano ancora. C'erano soltanto le montagne (Alpi e Appennini).

- La Pianura Campana si è formata con la lava uscita da un vulcano. È una pianura **vulcanica**.

- La Pianura Salentina si è formata perché il fondo del mare si è alzato. È una pianura **di sollevamento**.

- La Pianura Padana si è formata con la terra, i sassi e la sabbia trasportati dai fiumi: è una pianura **alluvionale**.

La maggior parte delle pianure italiane sono pianure alluvionali.

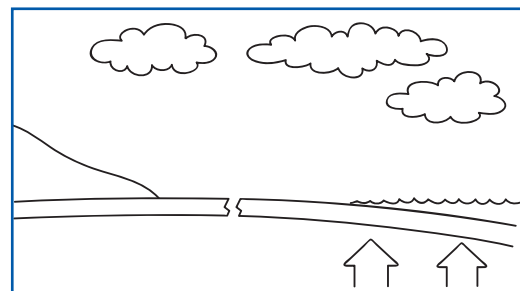
Si è formata con i materiali trasportati dai fiumi, è una pianura

.....



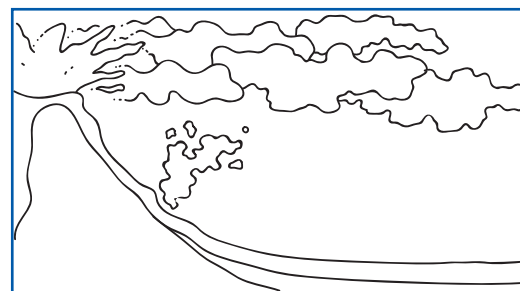
Si è formata perché si è sollevato il fondo del mare, è una pianura

.....



Si è formata con i materiali usciti da un vulcano, è una pianura

.....

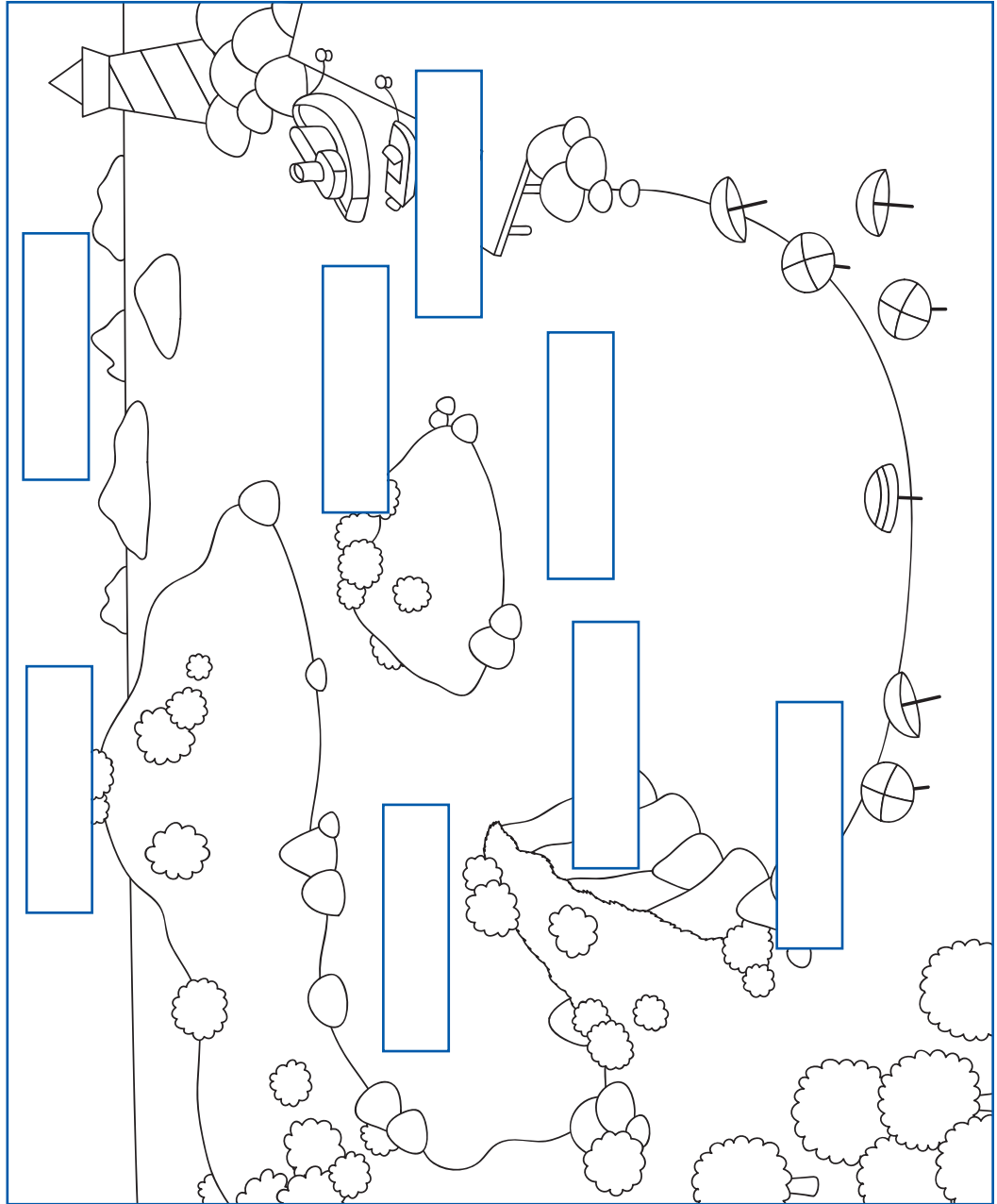


Nome Classe Data

MARE E COSTE

• Osserva l'immagine e scrivi il nome di ogni elemento nel cartellino corrispondente.

- arcipelago
- baia
- costa alta
- isola
- golfo
- porto
- promontorio
- spiaggia



Nome Classe Data

MARI E COSTE IN ITALIA

- Abbina domande e risposte.

DOMANDE

| | |
|---|--|
| 1 | Quali sono i nomi dei mari che circondano l'Italia? |
| 2 | Quali mari mette in comunicazione lo Stretto di Messina? |
| 3 | Quali sono le isole italiane più grandi? |
| 4 | Quali regioni italiane non hanno coste marine? |

RISPOSTE

| | |
|-----|--|
| ... | Valle d'Aosta, Piemonte, Lombardia, Trentino Alto Adige, Umbria. |
| ... | Sicilia e Sardegna. |
| ... | Mar Tirreno e Mar Ionio. |
| ... | Mar Ligure, Mar Tirreno, Mar Ionio, Mare Adriatico. |

Nome Classe Data

DESCRIVO L'ITALIA

• Osserva la carta fisica dell'Italia e scegli la risposta corretta.

1. Che forma ha l'Italia?

- Corta e diritta, come una scarpa.
 Lunga e inclinata, come uno stivale.

2. Come sono le coste?

- Quasi tutte basse e sabbiose.
 Sia basse che alte, sabbiose e rocciose.

3. Ci sono isole?

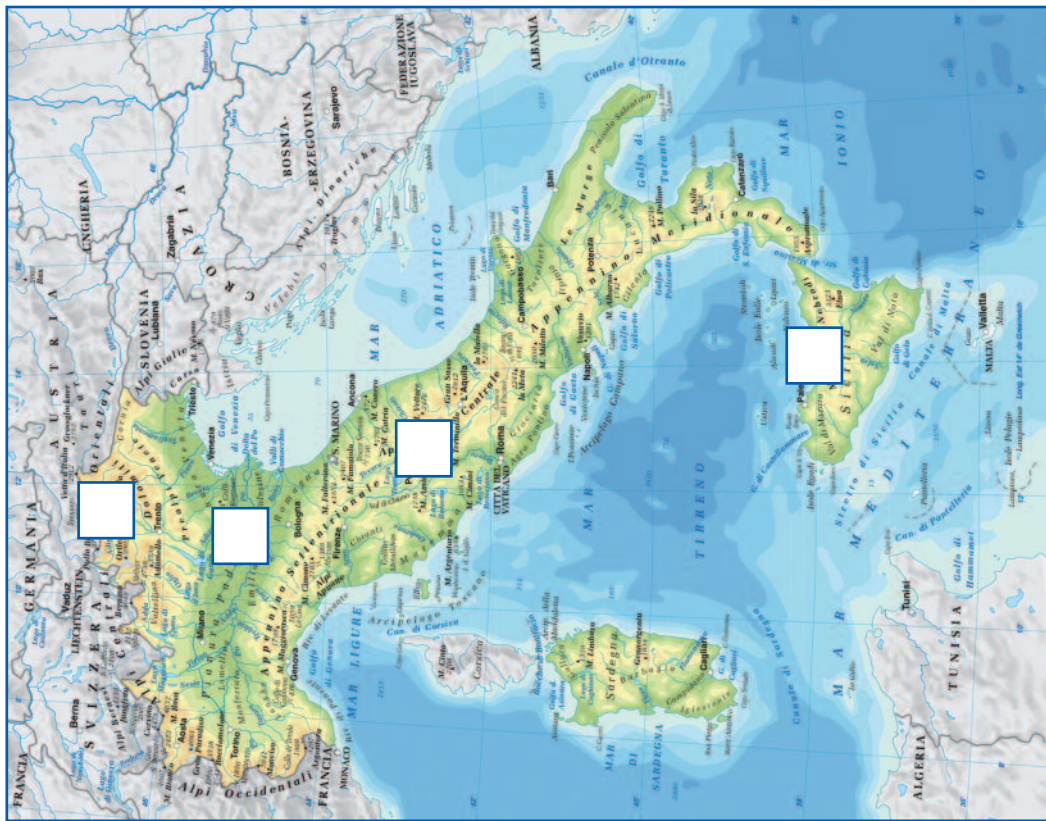

- Ci sono due isole maggiori (Sicilia e Sardegna) e altre più piccole.
 Ci sono solo due isole, Sicilia e Sardegna.

4. Il territorio è montuoso o pianeggiante?

- È quasi tutto pianeggiante con poche montagne o colline.
 È montuoso e collinare con una grande pianura al nord.

ZONA ALPINA, APPENNINICA, COSTIERA E PADANA

- Osserva la carta e collega le fotografie alle zone giuste.




Nome Classe Data

LAGO E FIUME

• Scrivi i nomi nei cartellini.

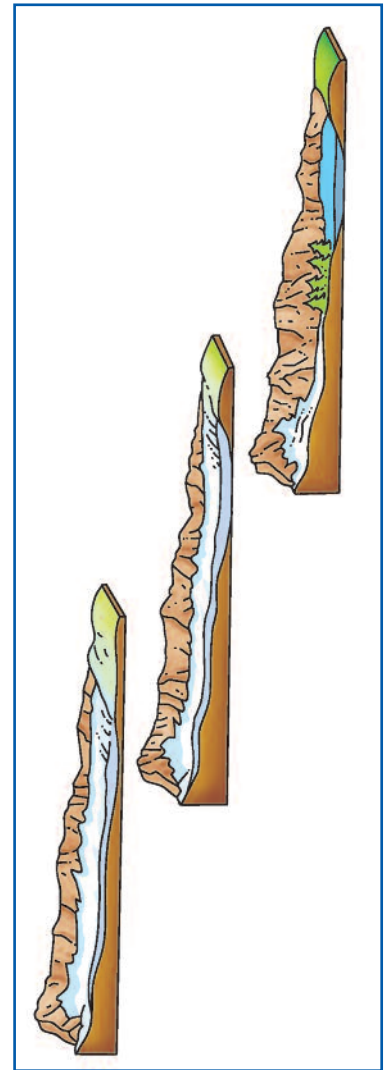
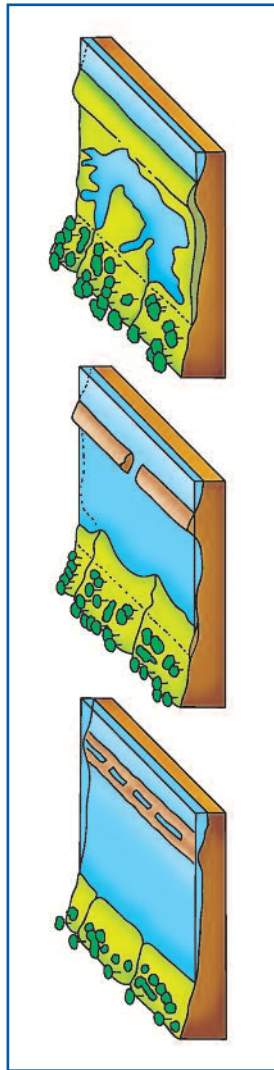
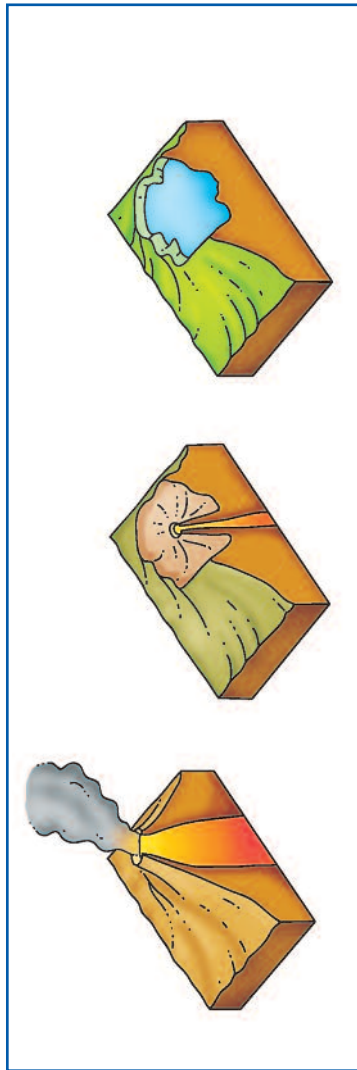
- sorgente
- fiume affluente
- cascata
- ansa
- fiume immissario
- lago
- fiume emissario
- foce



Nome Classe Data

ORIGINE DEI LAGHI

- Abbina descrizioni e disegni.



Migliaia di anni fa, il ghiacciaio si è sciolto e l'acqua ha riempito lo spazio del ghiacciaio. È un lago di origine **glaciale**.

Milioni di anni fa, il vulcano si è spento e l'acqua ha riempito il cratere del vulcano. È un lago di origine **vulcanica**.

Durante tanti anni, il mare ha trasportato sabbia e formato una striscia di terra lungo la costa. È un lago di origine **costiera**.

Nome Classe Data

LA MIA REGIONE SULLA CARTA

- Colora la tua regione sulla carta dell'Italia.



Nome Classe Data

COM'È LA MIA REGIONE

- Osserva una carta fisica dell'Italia e rispondi.

Il nome della regione è:

.....

La zona o le zone morfologiche della regione sono:

- Zona Alpina
- Zona Padana
- Zona Appenninica
- Zona Costiera

È una regione sul mare?

- Sì
- No

Il monte più alto della regione è:

.....

I fiumi più importanti sono:

.....

.....

Ci sono laghi nella regione?

- Sì
- No

Quali origini hanno i laghi della regione?

- Origine glaciale.
- Origine vulcanica.
- Origine costiera.

Nome Classe Data

DATI DELLA MIA REGIONE

- Raccogli i dati sulla tua regione e rispondi.

Gli abitanti sono:

.....

La città capoluogo di regione è:

.....

Le altre città importanti sono:

.....

.....

.....

Le coltivazioni più importanti sono:

 grano ortaggi olivo mais arance mele riso vite fiori

Le altre risorse primarie principali sono:

 pesca allevamento animali legname minerali sabbia pietra e marmo

Le industrie principali sono:

.....

.....

Nome Classe Data

I FIUMI /1

- Abbina le domande alle risposte della scheda "I fiumi /2".

| | |
|---|---|
| 1 | Da dove arriva l'acqua di un fiume? |
| 2 | Che cosa è la portata di un fiume? |
| 3 | Quando un fiume è in fase di portata massima (o piena)? |
| 4 | Quando un fiume è in fase di portata minima (o magra)? |
| 5 | Che cosa è il bacino idrografico di un fiume? |
| 6 | Che cosa è la linea spartiacque ? |
| 7 | Che cosa è l' alveo di un fiume? |
| 8 | Che cosa è il corso di un fiume? |

Nome Classe Data

I FIUMI /2

- Abbina le risposte alle domande della scheda "I fiumi/1".

| | |
|-----|---|
| ... | Quando riceve molta acqua. |
| ... | Quando riceve poca acqua. |
| ... | È il percorso di un fiume, dalla sorgente sino alla foce. |
| ... | Il bacino idrografico è il territorio dal quale un fiume riceve l'acqua. |
| ... | L'alveo è il solco scavato dal fiume nel terreno. |
| ... | La portata di un fiume è la quantità di acqua trasportata, cioè quanti metri cubi di acqua passano in un punto in un secondo. |
| ... | L'acqua di un fiume viene dallo scioglimento di neve e ghiaccio, dalla pioggia e dall'acqua di altri fiumi o laghi. |
| ... | È la linea immaginaria che separa il bacino idrografico di un fiume da quello di un altro. |